

--	--	--	--	--

--	--	--	--	--

Tíreolaíocht

Aonad 1

An Domhan Nádúrtha Againn
a Thuiscint



[GGY11]

GGY11

DÉ MÁIRT 22 BEALTAINÉ, IARNÓIN

AM

1 uair 30 nóiméad.

TREOIR D'IARRTHÓIRÍ

Scríobh d'Uimhir Lárionaid agus d'Uimhir Iarrthóra sna spásanna chuige sin ag barr an leathanaigh seo.

Ní mór duit na ceisteanna a fhreagairt sna spásanna chuige sin.

Ná scríobh taobh amuigh den achar bhoscáilte ar gach leathanach nó ar leathanaigh bhána.

Comhlánaigh le dúch dubh amháin. **Ná scríobh le peann glóthaí.**

Freagair **gach ceann** de na **ceithre** cheist.

Tá léarscáil S.O. curtha ar fáil duit le húsáid le **Ceisteanna 1** agus **2**.

Ná scríobh do fhreagraí ar an léarscáil seo.

EOLAS D'IARRTHÓIRÍ

Is é 100 an marc iomlán don pháipéar seo.

Léiríonn figiúirí idir lúibíní atá priontáilte ar thaobh na láimhe deise de leathanaigh na marcanna atá ag dul do gach ceist nó do gach cuid de cheist.

Measúnófar caighdeán na cumarsáide scríofa i gceisteanna **1(e)**, **2(d)(ii)** agus **3(e)**.



Téama A: Dobharthimpeallachtaí

- 1 (a) Déan staidéar ar an tsliocht as léarscáil na Suirbhéireachta Ordanáis de chuid de chósta Chorn na Breataine, Sasana agus freagair an cheist a leanann. Ainmnigh gné abhann atá le fáil ag na tagairtí eangaí atá tugtha le **Tábla 1** a chomhlánú.

Tábla 1

Tagairt Eangaí	Gné Abhann
TE (GR) 2092	
TE (GR) 0888	

[2]

- (b) Tá ionchuir, stórais, traschuir agus aschuir ag abhantrach draenála. Tarraing saigheada leis na comhpháirteanna d'abhantrach draenála ar stórais iad agus na comhpháirteanna ar traschuir iad a thaispeáint, le **Tábla 2** a chomhlánú. Tá ceann amháin déanta duit.

Tábla 2

Stórais	Comhpháirt Abhantrach Draenála	Traschuir
	Rith dromchla chun srutha	
	Insíothlú	
	Idircheapadh trí fhásra	
	Sreabhadh screamhuisce →	
	Síothlú	

[4]





LEATHANACH BÁN

NÁ SCRÍOBH AR AN LEATHANACH SEO

(Leanann ceisteanna ar an chéad leathanach eile)

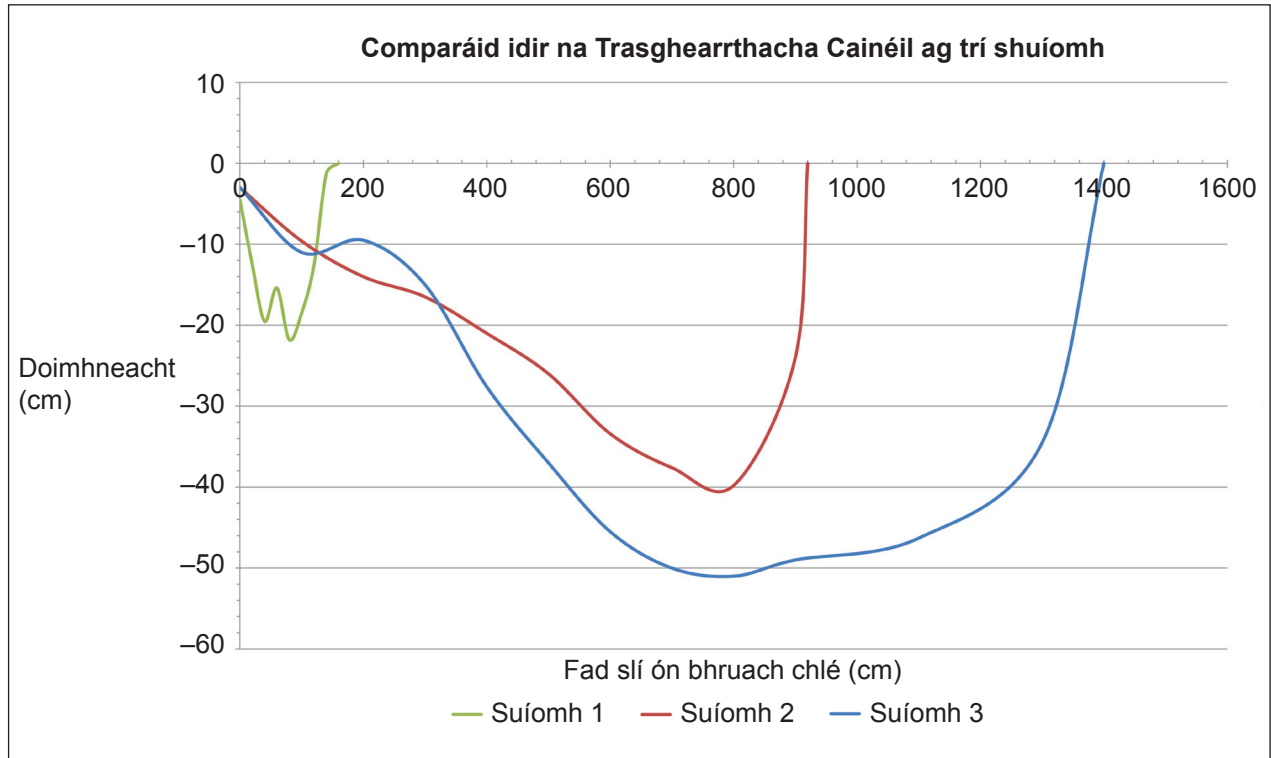
[Tiontaigh an leathanach

11642.02



32GGY1103

(c) Déan staidéar ar **Fhíor 1** a chuireann sonraí i láthair a bhailigh daltaí tíreolaíochta ar thuras allamuigh ag trí shuíomh éagsúla ar abhainn. Freagair an cheist a leanann.



Uimhir Shuímh	Láthair	Doirteadh (cumeacs)
1	Cóngarach don fhoirse	0.06
2	Cúrsa meánach	1.10
3	Gar don bhéal	3.95

Foinse: Príomhscrúdaitheoir

Fíor 1



Téama B: Timpeallachtaí Cósta

- 2 (a) Déan staidéar ar an tsliocht as léarscáil na Suirbhéireachta Ordanáis de chuid de chósta Chorn na Breataine, Sasana, agus freagair na ceisteanna a leanann.
- (i) Luaigh airde an talaimh atá ar taispeáint ag an spotairde ag barr *Rusey Cliff*, TE (GR) 128935.
- _____ m [1]
- (ii) Luaigh an fad slí dronlíneach ón ionad campála in aice le *Ringford Farm* TE 126926 go dtí an droichead ar an *River Ottery* ag *Trengune* TE 189933.
- _____ km [2]
- (iii) Luaigh treo *Pencannow Point* TE 1397 ó *Boscastle* TE 0990.
- _____ [1]
- (iv) Tá cóstaí múnlaithe ag tonnta. Luaigh **dhá** fhíric faoi thonnta scriosacha.
1. _____
2. _____ [2]



- (b) Déan staidéar ar **Fhíor 2** a thaispeánann Durdle Door, stua atá lonnaithe i gCorn na Breataine. Freagair na ceisteanna a leanann.



© Andrea Bianchi / iStock / Getty Images Plus

Fíor 2

- (i) Cuir na ráitis in ord leis an dóigh ar foirmíodh an stua i **bhFíor 2** a thaispeáint le **Tábla 3** thíos a chomhlánú. Tá ceann amháin déanta duit.

Tábla 3

Ráiteas	Ord
Leathnaíonn tonnghníomhú scoilteanna sa charraig le huaimh a fhoirmiú	
Tá líne laige in aill leathnaithe ag creimeadh	1
Sa deireadh, beidh an uaimh creimthe an bealach ar fad tríd an aill le stua a fhoirmiú	
Le himeacht ama, creimtear an balla cúil tuilleadh	

[3]

- (ii) Ainmnigh an ghné a fhoirmeofar nuair thiteann díon an stua.

[1]

[Tiontaigh an leathanach



(c) Is grianghraf de chlár tongghearrtha í **Fíor 3**.



© Zinelli / iStock / Getty Images Plus

Fíor 3





Spás breise:

[Tiontaigh an leathanach

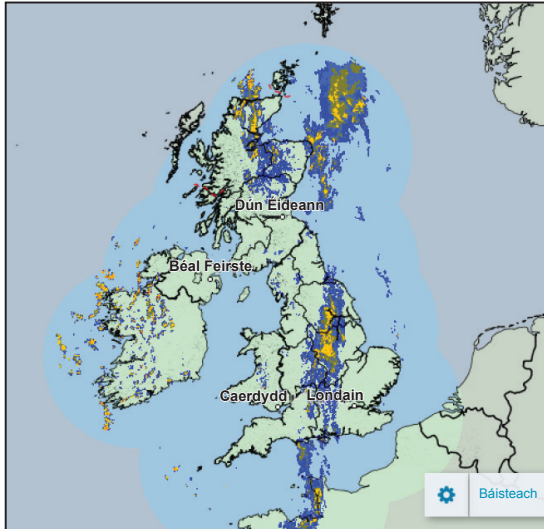
11642.02



32GGY1113

Téama C: An Aimsir agus an Aeráid Againn atá ag Athrú

- 3 (a) (i) Baintear úsáid as foinsí éagsúla nuair atá réamhaisnéis aimsire á cruthú. Ainmnigh foinsí na sonraí a thaispeántar thíos i **bhFíor 4**. Scríobh do fhreagraí sna boscaí atá curtha ar fáil.



A:



B:



C:

Met Office © Crown Copyright
© PaulFleet / iStock / Thinkstock
© Pogli / iStock / Thinkstock

Fíor 4

[3]





(ii) Déan aimsir agus aeráid a idirdhealú.

[3]

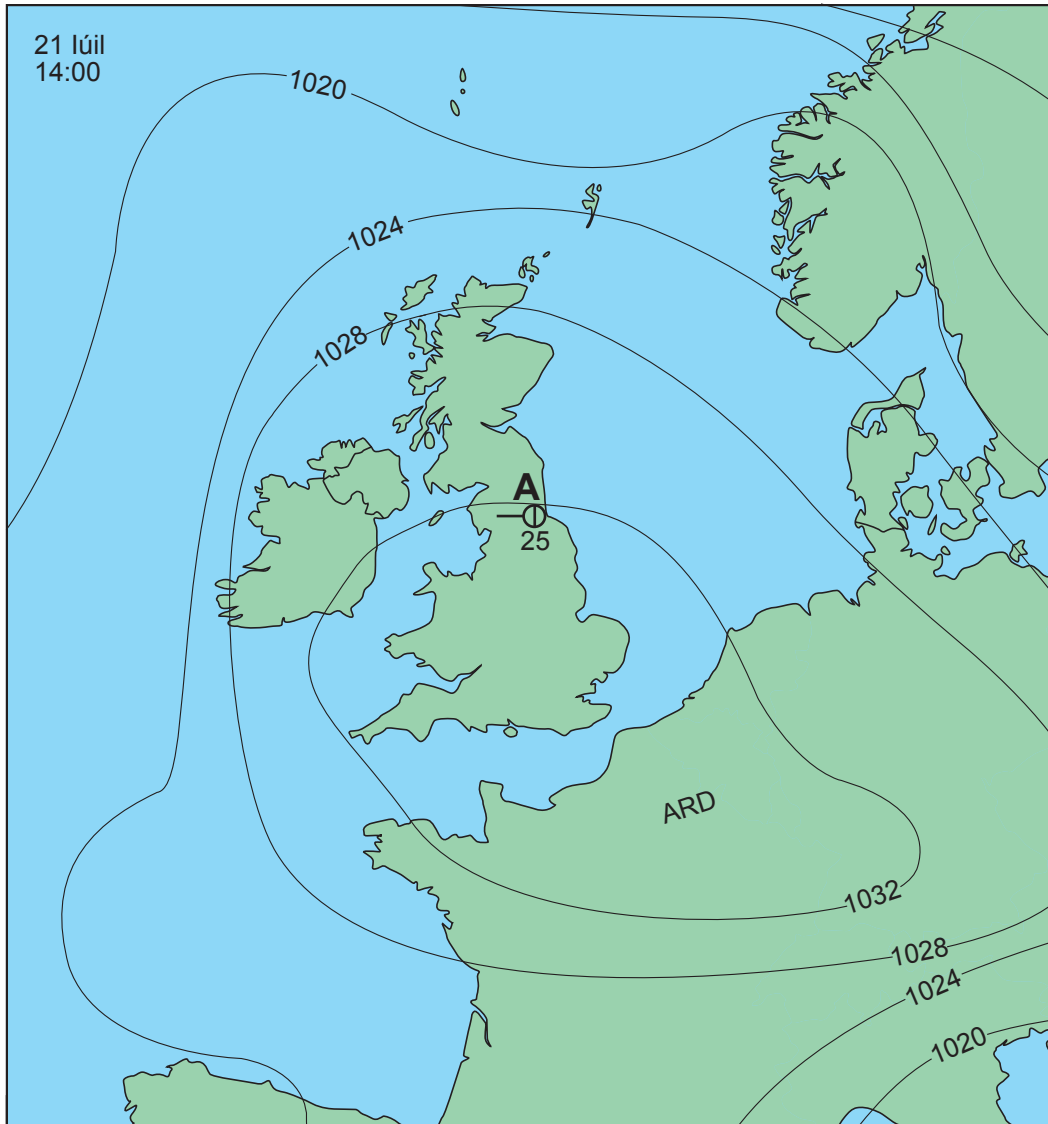
(b) Cuir síos ar, agus mínigh, na saintréithe teochta agus taise a bhaineann le haermhais Mhuirí Pholach.

[4]

[Tiontaigh an leathanach



(c) Déan staidéar ar **Fhíor 5** a thaispeánann frithchíoclón thar Éirinn agus an Bhreatain Mhór ar lá i mí Iúil. Freagair na ceistanna a leanann.



EOCHAIR

Clúdach scamall (ochtaí)

- Spéir ghlan
- ◐ $\frac{1}{8}$ clúdaithe
- ◑ $\frac{2}{8}$ clúdaithe
- ◒ $\frac{3}{8}$ clúdaithe
- ◓ $\frac{4}{8}$ clúdaithe

- ◑ $\frac{5}{8}$ clúdaithe
- ◒ $\frac{6}{8}$ clúdaithe
- ◓ $\frac{7}{8}$ clúdaithe
- ◔ $\frac{8}{8}$ clúdaithe
- ⊗ Spéir dhoiléir

Luas na gaoithe (cnotaí)

- Socair
- 1–2
- 3–7
- 8–12
- 13–17

Treo na gaoithe
Saighead a thaispeánann an treo a bhfuil an ghaoth ag séideadh as

Aerbhrú (milleabair)
— 1020 — iseabar

Foinse: Príomhscrúdaitheoir

Fíor 5



- (i) Taispeáin an aimsir atá ag tarlú ag stáisiún aimsire **A** (*Newcastle upon Tyne*) ar **Fhíor 5** trí **Thábla 4** a chomhlánú. Tá ceann amháin déanta duit.

Tábla 4

Eilimint Aimsire	Dálaí Aimsire
Teocht	25 °C
Luas Gaoithe	Cnotaí
Treo Gaoithe	

[2]

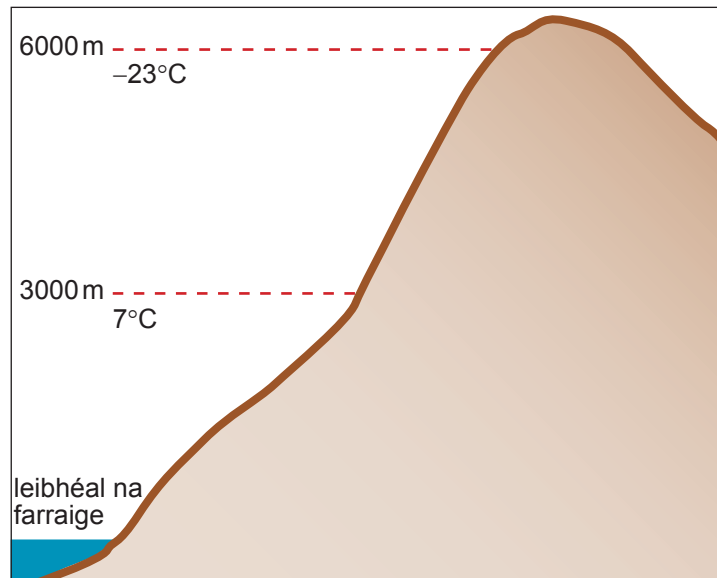
- (ii) Luaigh ina iomláine fáth **amháin** a mbíonn teochtaí arda ann mar gheall ar an chóras aimsire i **bhFíor 5**.

[3]

[Tiontaigh an leathanach



(d) Déan staidéar ar **Fhíor 6** a léiríonn an dóigh ar féidir le hairde dul i bhfeidhm ar theocht. Freagair an cheist a leanann.



Foinse: Príomhscrúdaitheoir

Fíor 6

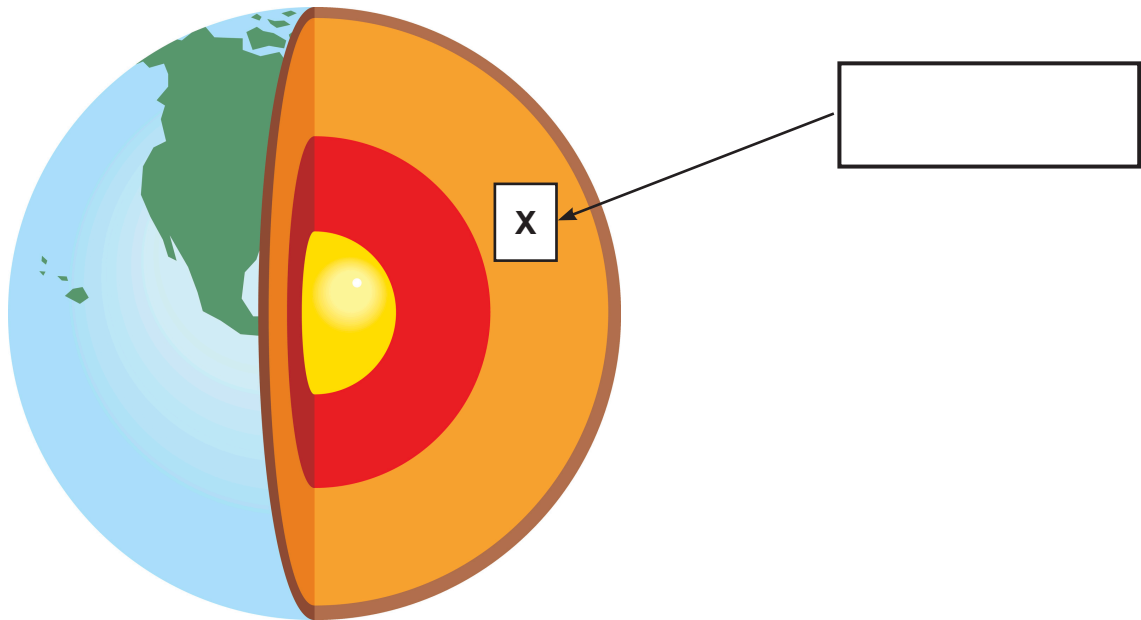
Fíor 6 in úsáid agat, cuir síos ar, agus mínigh, cad chuige a dtéann airde i bhfeidhm ar theocht.

[4]



Téama D: An Domhan Míshocair

- 4 (a) Déan staidéar ar **Fhíor 7** a thaispeánann struchtúr an Domhain. Freagair na ceisteanna a leanann.



© Colin_Hayes / iStock / Getty Images

Fíor 7

- (i) Ainmnigh an chuid den Domhan atá léirithe ag **X** ar **Fhíor 7**. [1]

- (ii) Cuir líne faoin fhocal cheart sna ráitis seo a leanas a bhaineann le struchtúr an Domhain. Tá ceann amháin déanta duit.

Tá dromchla an Domhain roinnte ina **bplátaí teicteonacha / sruthanna comhiompair**.

Is é an screamh an ciseal **is tibhe** / **is tanaí** den Domhan.

Tarlaíonn **sruthanna comhiompair** / **imill phlátaí** faoi thalamh.

Tá an croí **amuigh** / **istigh** soladach.

Is limistéir **láidreachta** / **laige** i screamh an Domhain iad éasclínte.

[4]





LEATHANACH BÁN

NÁ SCRÍOBH AR AN LEATHANACH SEO

(Leanann ceisteanna ar an chéad leathanach eile)

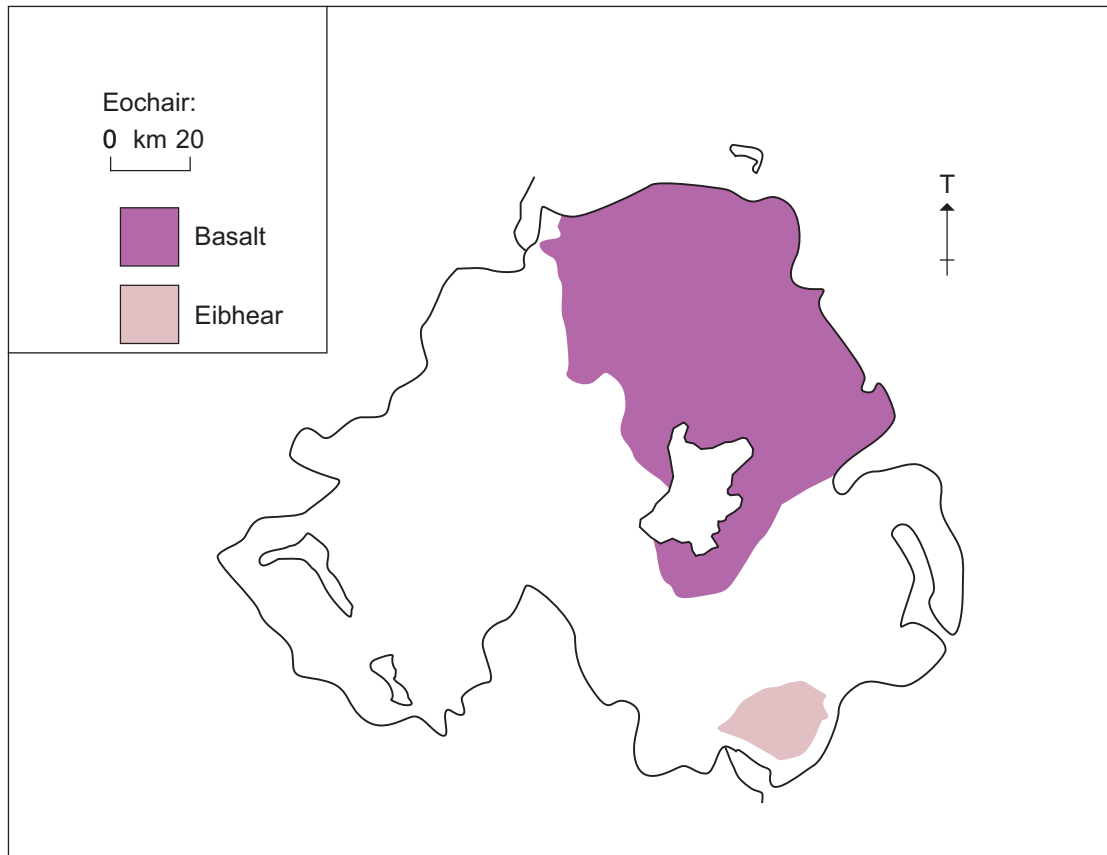
[Tiontaigh an leathanach

11642.02



32GGY1121

(b) Déan staidéar ar **Fhíor 8** a thaispeánann suíomh bruthcharraigeacha i dTuaisceart Éireann. Freagair na ceisteanna a leanann.



Foinse: Príomhscrúdaitheoir

Fíor 8





(i) Cuir síos ar dháileadh an eibhir i **bhFíor 8**.

[2]

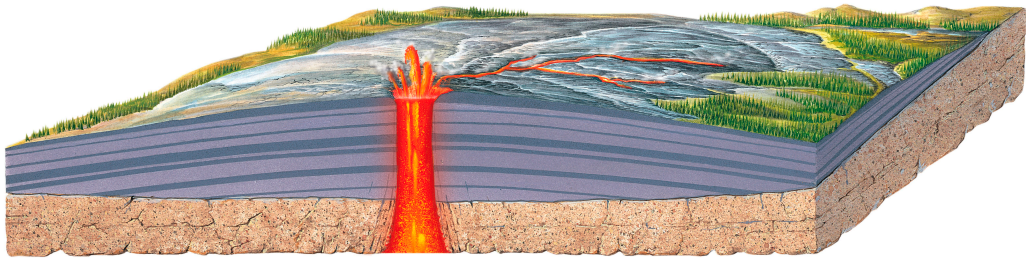
(ii) Mínigh an dóigh a bhfoirmítear eibhear.

[3]

[Tiontaigh an leathanach



(c) Déan staidéar ar **Fhíor 9** a thaispeánann léaráid de sciathbholcán. Freagair na ceisteanna a leanann.



© Gary Hincks / Science Photo Library

Fíor 9

(i) Luaigh **dhá** shaintréith a bhaineann le sciathbholcán.

1. _____

2. _____ [2]

(ii) Ainmnigh cineál amháin eile de bholcán. _____ [1]





LEATHANACH BÁN

NÁ SCRÍOBH AR AN LEATHANACH SEO

(Leanann ceisteanna ar an chéad leathanach eile)

[Tiontaigh an leathanach

11642.02



32GGY1125

(d) Déan staidéar ar **Fhíor 10** a thaispeánann faisnéis faoi chrith talún in Eacuadór in Aibreán 2016. Freagair na ceisteanna a leanann.



- Bhuail an crith talún ba chumhachtaí a bhí ag Eacuadór leis na deiceanna de bhlianta.
- Bhuail an crith talún 7.8 tráthnóna Dé Sathairn.
- Tugadh 10,000 trúpa agus 3,500 póilín isteach san oibríocht tarrthála.
- Bhí ceantair chósta san iarthuaisceart ar na ceantair ba ghiorra don eipealár.

Fíor 10





(i) Luaigh ainm na cathrach is faide ar shiúl ón eipealár.

_____ [1]

(ii) Luaigh ciall an téarma **eipealár**.

_____ [2]

(iii) Tá Eacuadór ar theorainn phlátaí scriosach.

Mínigh an fáth a dtarlaíonn creathanna talún go minic ag teorainn scriosach.

_____ [3]

[Tiontaigh an leathanach





SEO DEIREADH AN SCRÚDPHÁIPÉIR

11642.02



32GGY1129

LEATHANACH BÁN
NÁ SCRÍOBH AR AN LEATHANACH SEO

11642.02



32GGY1130





LEATHANACH BÁN

NÁ SCRÍOBH AR AN LEATHANACH SEO

11642.02



32GGY1131

NÁ SCRÍOBH AR AN LEATHANACH SEO

Don Scrúdaitheoir amháin	
Uimhir Ceiste	Marcanna
1	
2	
3	
4	

Marc Iomlán	
--------------------	--

Uimhir Scrúdaitheora

Cuireadh isteach ar chead chun an t-ábhar cóipchirt uile a atáirgeadh.
I gcásanna áirithe is féidir nár éirigh le CCEA teagmháil a dhéanamh le húinéirí cóipchirt agus beidh sé sásta na hadmhálacha sin a fágadh ar lár a chur ina gceart amach anseo ach é a chur ar an eolas.

237618



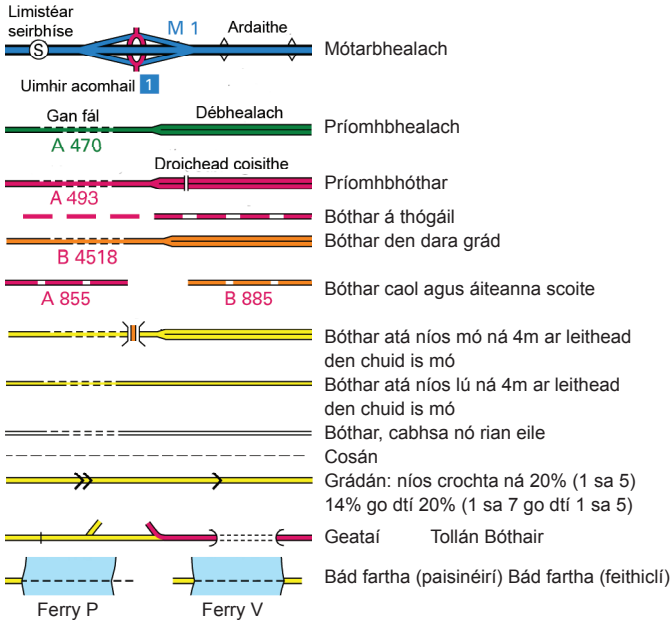
32GGY1132



Bealaí

BÓITHRE AGUS COSÁIN

Ní gá go mbeadh ceart slí ann



CEADANNA ISTEACH POIBLÍ EILE

- Bealach eile a bhfuil cead isteach poiblí air (nach dtaispeántar i limistéir uirbeacha de ghnáth)
- Conair Náisiúnta, Cosán Fad-Achair Eorpach, Bealach Fad-Achair, Bealaí Áineasa roghnaithe

Is féidir sainchineál na gceart ar na bealaí seo agus srianta ar bith orthu a chinntiú leis an údarás áitiúil. Tá ailínithe bunaithe ar an eolas is fearr atá ar fáil. Ní thaispeántar na bealaí seo ar léarscáileanna na hAlban.

- Bealach rothar ar bhóthar
- Bealach rothar saor ó thrácht
- 4 uimhir Gréasán Náisiúnta Rothar
- 8 uimhir Gréasán Réigiúnach Rothar

Danger Area Raonta Lámhaigh agus Trialach sa cheantar
Aire! Tabhair aird ar na fógraí rabhaidh

PRÍOMHBHEALAÍ

Is gréasán de thrébhealaí molta na príomhbhealaí agus cuireann siad leis an chóras mótarbhealaí.

CEARTA SLÍ POIBLÍ

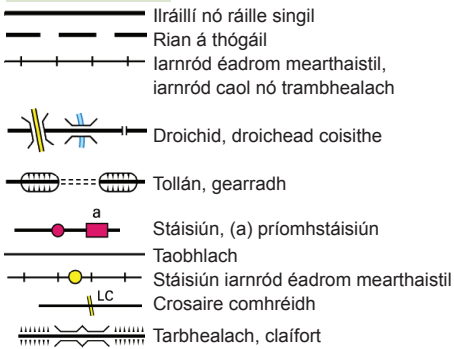
- Cosán siúil
- +--+--+--+ Fobhealach ar oscailt do gach cineál tráchta
- Fobhealach teoranta (cosc ar fheithiclí inneallghluaiste)
- Cosán marcaíochta

Baineadh na cearta slí poiblí atá ar an léarscáil seo as léarscáileanna deifnídeacha de chuid na n-údarás áitiúil agus as leasuithe ina dhiaidh sin. Taispeántar leis na siombailí an bealach sainithe a fhad agus a ligfidh scála na léarscáile. Ní thaispeántar cearta slí ar léarscáileanna na hAlban.

Is féidir go n-athrófar cearta slí agus is féidir nach mbeidh siad sonraithe go soiléir ar an talamh. Déan teagmháil leis an údarás áitiúil cuí leis an fhaisnéis is deireanaí a fháil.

Ní hionann bóthar, rian ná cosán eile a bheith ar an léarscáil seo agus fianaise ar cheart slí a bheith ann.

IARNRÓID

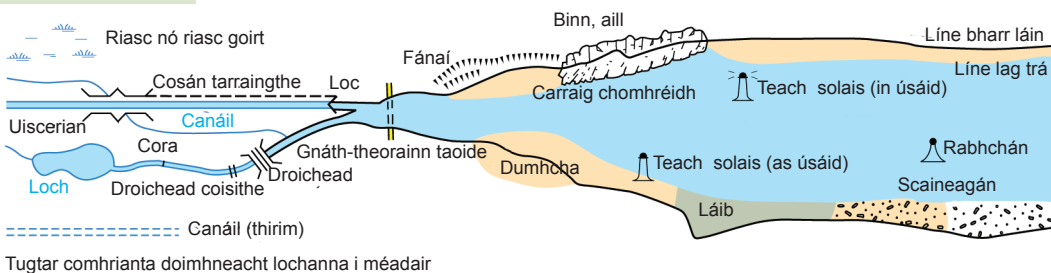


Eolas Turasóireachta

EOLAS TURASÓIREACHTA

- Amharcpointe
- Gairdín
- Brú óige
- Anaclann dúlra
- Siúlóidí/Conairí
- Lárionad cuairteoir
- Láithreán picnicí
- Ionad áineasa/fóillíochta/spóirt
- Láithreán campála/carbhán
- Ionaid inspéise turasóireachta roghnaithe
- Galfchúrsa nó machaire gailf
- Ionad eolais, an bhliain ar fad/le linn an tséasúir
- Páirceáil/Páirceáil agus Taisteal, an bhliain ar fad/le linn an tséasúir
- Guthán poiblí/cuidiú cois bóthair
- Láithreán/ceantar de chuid World Heritage

GNÉITHE UISCE



Eolas Ginearálta

Suirbhéireacht Ordanáis Rastar Daite Scála 1:50 000

TEORAINNEACHA

- Teorainn náisiúnta
- Ceantar

- Contae, Údarás Aonadach, Limistéar Cathrach nó Buirg de chuid Londen
- Páirc Náisiúnta

GNÉITHE GINEARÁLTA

- Líne tarchurtha leictreachais (taispeántar piolín agus spás caighdeánach eatarthu)
- Píblíne (léirítear treo an tsrutha le saighead)
- Gearradh, claifort
- Láithreán líonadh talaimh, carn carta nó fuílligh
- Coill bhuaircíneach
- Coill neamhbhuaircíneach
- Coill mheasctha
- Úllord
- Páirc nó fearann ornáideach
- Foirgnimh
- Coimisiún na Foraoiseachta
- National Trust - i gcónaí ar oscailt
- National Trust - cead isteach teoranta – cloí le comharthaí áitiúla

- National Trust for Scotland - i gcónaí ar oscailt
- National Trust for Scotland - cead isteach teoranta – cloí le comharthaí áitiúla
- Manx National Heritage
- Fáschoill de chuid Rannóg Foraoiseachta Mhanann
- Stáisiún busanna nó cóistí
- Teach gloine
- Héileaport
- Áit adhartha atá nó a bhí ann agus túr
- Áit adhartha atá nó a bhí ann agus spuaic, miontúr nó cruinneachán
- Áit adhartha
- Cuaille triantánachta
- Crann (tarchurtha)
- Caidéal gaoithe; tuirbín gaoithe
- Muileann gaoithe agus seolta nó gan seolta
- Trasnú cliathráin ag eatrainmh de 5'

AIRDÍ

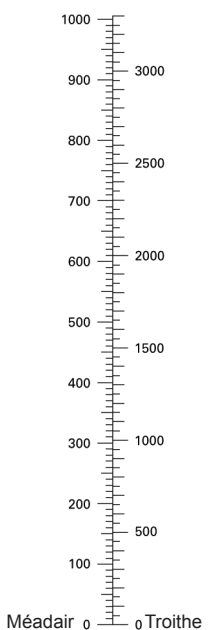
- Tugtar na comhrianta ar eatrainmh cheartingearachade 10 méadar
- Tugtar na hairdí ceart go dtí an méadar is cóngaraí os cionn mheánleibhéil na farraige.

Is ag tagairt d'airde an stáisiúin ag leibhéil an talaimh atá uimhir a thaispeántar taobh le cuaille triantánachta. Más airde arís an mullach, tugtar airde an mhullaigh idir lúibíní.

COINBHÉARTÚ

MÉADAIR – TROITHE

1 mhéadar = 3,2808 troigh



15.24 méadar = 50 troigh

GNÉITHE CARRAIGEACHA



GIORRÚCHÁIN

Is féidir tuilleadh faisnéise maidir le giorrúcháin agus siombailí a fháil ach amharc ar an suíomh gréasáin againne.

- CH Clubtheach
- PH Teach Tábhairne
- PC Leithreas poiblí (i gceantar tuaithe)
- TH Halla Baile, Halla Cathrach nó a leithéid
- GE Gráta eallaigh
- P Oifig Phoist
- MP Cuaille míle
- MS Cloch mhíle

EOLAS SEANDÁLAÍOCHTA AGUS STAIRE

- Láithreán séadchomhartha
- Créfort infheicthe
- Láthair chatha (agus dáta)
- VILLA Rómhánach
- Neamh-Rómhánach

Bealaí

BÓITHRE AGUS COSÁIN

Ní gá go mbeadh ceart slí ann

	Mótarbhealach		Limistéar seirbhíse		Uimhir aomhail
	Débhealach				
	Príomhbhóthar				
	Bóthar den dara grád				
	Bóthar caol agus áiteanna scoite				
	Bóthar á thógáil				
	Bóthar atá níos mó ná 4m ar leithead den chuid is mó				
	Bóthar atá níos lú ná 4m ar leithead den chuid is mó				
	Bóthar, cabhsa, nó rian eile agus fáil nó gan fáil				
	Grádan: níos crochta ná 20% (1 sa 5) 14% go dtí 20% (1 sa 7 go dtí 1 sa 5)				
	Cosán				
	Bád fartha (paisinéirí); Bád fartha Ferry P				

IARNRÓID

	Ilráilí caighdeánacha
	Ráille singil caighdeánach
	Iarnród caol nó iarnród éadrom mearthaistil agus stáisiún
	Bóthar thar rian; bóthar faoi rian; crosaire comhréidh
	Gearradh; tollán; claifort
	Stáisiún ar oscailt do phaisinéirí; taobhlach

CEARTA SLÍ POIBLÍ

(Ní thaispeántar Cearta Slí ar léarscáileanna na hAlban)

	Cosán siúil
	Cosán marcaíochta
	Fobhealach ar oscailt do gach cineál tráchta
	Fobhealach teoranta (ó 2 Bealtaine 2006 tugtar Fobhealach teoranta ar bhóthar a bhíodh in úsáid mar chosán poiblí. Tugtar ceart slí air do shiúlóirí, mharcaigh capaill, rothaithe agus d'fheithiclí nach feithiclí inneallghluaiste iad.)

Baineadh na cearta slí poiblí ata ar an léarscáil seo, as léarscáileanna deifnídeacha de chuid na n-údarás áitiúil agus as leasuithe ina dhiaidh sin. Is féidir go n-athrófar cearta slí agus is féidir nach mbeidh siad sonraithe go soiléir ar an talamh. Déan teagmháil leis an údarás áitiúil cuí leis an fhaisnéis is deireanaí a fháil.

Ní hionann bóthar, rian ná cosán eile a bheith ar an léarscáil seo agus fianaise ar cheart slí a bheith ann.

CEADANNA ISTEACH POIBLÍ EILE

- Bealach eile a bhfuil cead isteach poiblí air (nach dtaispeántar i limistéir uirbeacha de ghnáth)

Is féidir sainchineál na gceart ar na bealaí seo agus srianta ar bith orthu a chinntiú leis an údarás áitiúil. Tá ailínithe bunaithe ar an eolas is fearr atá ar fáil.

- Conair Náisiúnta / Bealach Fad-Achair
- Bealach Áineasa
- Cosán Siúil ceadaithe
- Cosán Marcaíochta ceadaithe

Cosán agus cosáin mharcaíochta ar thug úinéirí talaimh cead úsáide poiblí orthu ach nach cearta slí iad. Is féidir go n-aistarraingeofar an cead.

- Bealach rothar saor ó thrácht

	uimhir Gréasán Náisiúnta Rothar – saor ó thrácht		uimhir Gréasán Náisiúnta Rothar – ar bhóthar
--	--	--	--

Albain

In Albain, tá cead isteach faoin dlí* ag gach duine ar an mhórchuid de thalamh agus d'uiscí intíre, fad is go mbíonn daoine cúramach freagrach ina leith. **Cuimsítear ann cead siúil, rothaíochta, marcaíochta, agus cead isteach ar uisce, fad a bhaineann le cuspóirí áineasa agus oideachasúla agus le dul thar talamh nó thar uisce.** Ní bhaineann cead isteach le mótarimeachtaí, sealgaireacht, lámhach nó iascaireacht nó le madadh muna bhfuil sé faoi smacht agat. Is é an **Scottish Outdoor Access Code** an pointe tagartha maidir le hionpar freagrach, agus is féidir é a fháil ag www.outdooraccess-scotland.com nó trí scairt gutháin a chur ar oifig áitiúil de chuid Scottish Natural Heritage. *Land Reform (Scotland) Act 2003

	National Trust for Scotland gcónaí ar oscailt/ar oscailt ar bhonn teoranta – cloí le comharthaí áitiúla
	Talamh de chuid an Forestry Commission/an Woodland Trust

Sasana agus Albain

	Raonta Lámhaigh agus Trialach sa cheantar. Aire! Tabhairt aird ar na fógraí rabhaidh. Faisnéis ar fáil ag www.access.mod.uk
--	--

TALAMH A BHFUIL CEAD ISTEACH AIR

Sasana

Treoir atá ann sa léarscáil seo maidir le talamh ar a bhfuil cead isteach de ghnáth de shiúl cos, mar shampla, talamh ar a bhfuil cead isteach faoin Countryside and Rights of Way Act 2000 agus talamh atá faoi bhainistíocht an National Trust, an Forestry Commission agus an Woodland Trust. D'fhéadfadh cead isteach maidir le himeachtaí eile a bheith ann chomh maith. Beidh roinnt srianta i bhfeidhm; beidh talamh ann nach mbeidh rochtain air. Ní hionann léiriú ar chead isteach agus barántas go bhfuil an léiriú cruinn iomlán. Cloígh le comharthaí áitiúla agus cloígh leis an Countryside Code. Tá an fhaisnéis is deireanaí ar fáil ag www.countrysideaccess.gov.uk

	Teorainn talaimh a bhfuil cead isteach air agus imir
	Talamh i gcoilleamach a bhfuil cead isteach air
	Ionad eolais maidir le cead isteach

	Cead isteach faoi rialú bainistithe, faoi fhodhlíthe áitiúla, mar shampla. Faisnéis ar fáil ag www.access.mod.uk
--	---

Eolas Ginearálta

FÁSRA Tá teorainneacha fásra á léiriú de réir shuíomh na siombailí ar an léarscáil

	Crainn bhuaircineacha		Scrobarnach		Úllord
	Crainn neamhbhuaircineacha		Raithneach, fraochmhá nó féarach garbh		
	Roschoill		Riasc, giolcach nó riasca goirt		

GNÉITHE GINEARÁLTA

- + Áit adhartha
- Áit adhartha atá } agus túr
nó a bhí ann } agus spuaic, miontúr nó cruinneachán
-
-
-
-
-
-
-
-
-
-
-
-
-
-
-
- BP/BS Cuaille teorann/cloch theorann
- CG Gráta eallaigh
- CH Clubtheach
- FB Droichead coisithe
- MP;MS Cuaille míle; cloch mhíle
- Mon Leacht
- PO Oifig Phoist
- Pol Sta Stáisiún póilíní
- Sch Scoil
- TH Halla Baile
- NTL Gnáth-theorainn taoide
- W;Spr Tobar; fuarán

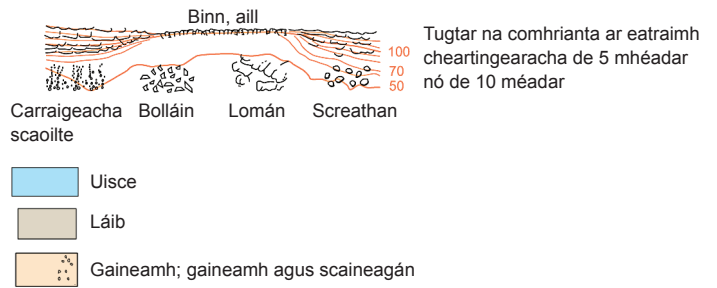
TEORAINNEACHA

-
-
-
-

AIRDÍ AGUS GNÉITHE NÁDÚRTHA

Tugtar na hairdí ceart go dtí an méadar is cóngaraí os cionn mheánleibhéal na farraige. Is ag tagairt d'airde an stáisiúin ag leibhéal an talaimh atá uimhir a thaispeántar taobh le cuaille triantánachta. Más airde arís an mullach, tugtar airde an mhullaigh idir lúbíní.

52 · Airde talamhshuirbhéireachta 284 · Airde aershuirbhéireachta



Tugtar na comhrianta ar eatraimh cheartingearacha de 5 mhéadar nó de 10 méadar

EOLAS SEANDÁLAÍOCHTA AGUS STAIRE

-
-
-
-
-

Is iad English Heritage a chuir eolas ar fáil i gcás Shasana agus Royal Commissions on Ancient and Historical Monuments i gcás na hAlban agus na Breataine Bige

Eolas Turasóireachta agus Fóillíochta Roghnaithe

- | | | | | | |
|--|--|--|----------------------------------|--|--|
| | Láithreán campála/carbhán | | Amharcphointe | | Lárionad cuairteoirí de chuid an Forestry Commission |
| | Ionaid inspéise turasóireachta roghnaithe | | Gairdín | | Leithreas poiblí |
| | Galfchúrsa nó machaire gailf | | Brú óige | | Conair rothar |
| | Ionaid eolais, an bhliain ar fad/le linn an tséasúir | | Anaclann dúlra | | Conair na rothar sléibhe |
| | Páirceáil/Páirceáil agus Taisteal, an bhliain ar fad/le linn an tséasúir | | Siúlóidí/conairí | | Rothair ar cíos |
| | Guthán poiblí/cuidiú cois bóthair/éigeandála | | Lárionad cuairteoirí | | Marcaíocht ar chapall |
| | Láithreán/ceantar de chuid World Heritage | | Láithreán picnicí | | Páirc faoin tuath |
| | Páirc siamsaíochta théama/siamsaíochta | | Ionad áineasa/fóillíochta/spóirt | | Teach tábhairne/tithe tábhairne |
| | Ionad ceardaíochta | | Iarnród caomhnaithe | | Ardeaglais/Mainistir |
| | Imeachtaí uisce | | Gné eile turasóireachta | | Turasanna báid |
| | Áit báid | | Fánán | | Historic Scotland |
| | Iarsmalann | | Iascaireacht | | Foirgneamh is díol spéise ó thaobh staire |
| | Ionad oidhreachta | | Caisleán/dún | | English Heritage |
| | | | National Trust | | |

Sainsiombailí in úsáid ar léarscáiliú 1:25 000

World Heritage 	Cadw 	Suíomh Rómhánach 		
London River Services 	Stáisiún Mheitreo Londen 	Stáisiún Mheitreo Ghlaschú 	Limistéar seirbhíse A-bhóthair 	Acomhal bóthar dola 

Is é atá i gceist le Siombail Amharcpointe gar-uillinn an amhairc ag an amharcpointe





90° 	160° 	180° 	225° 	360° 
--	---	---	---	---

Lárionaid Cuairteoirí de chuid an National Park




North York Moors 	Northumberland 	Gleanntáin Yorkshire 	Lake District 	Pembrokeshire 	Exmoor 
Muileann gaoithe (ar oscailt don phobal) 		Feistiú (saor) 		Pointe luchtúcháin báid leictrigh 	

Na Scillí amháin (Explorer 101)


Tá faisnéis maidir le cead isteach ar fáil ó Isles of Scilly Wildlife Trust

Druidte 	I gcónaí ar oscailt 	Ar oscailt ar bhonn teoranta 	Lárionad cuairteoirí de chuid Isles of Scilly Wildlife Trust 
--	--	---	---

Purbeck agus South Dorset amháin (Explorer OL15)
Limistéar de chuid na hAireachta Cosanta (MOD)

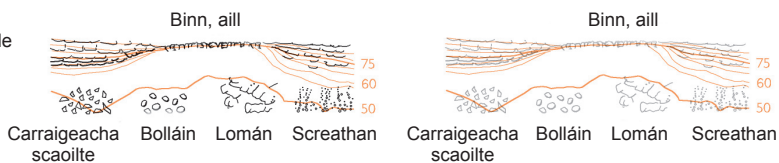
Cead isteach teoranta don phobal ar Raonta Lámhaigh 	Eolas maidir le Lámhach ar Raonta agus maidir le Cead Isteach ar fáil ó MOD 	Bóithre ar oscailt le linn do shiúlóidí ar raon a bheith ar oscailt 	Eolas (maidir le cead isteach ar limistéir MOD) ar fáil ag www.access.mod.uk
--	--	---	--

Eastbourne & Beachy Head amháin (Explorer 123)

Pointe rochtana ar an uirthrú


Athruithe ar Gnéithe Nádúrtha

Léireofar Gnéithe Nádúrtha le dath dubh nó liath



Ó lár 2007 ar aghaidh léireofar Gnéithe Cearraigeacha le dath liath seachas dath dubh

Cuireadh isteach ar chead chun an t-ábhar cóipchirt uile a atáirgeadh.
I gcásanna áirithe is féidir nár éirigh le CCEA teagmháil a dhéanamh le húinéirí cóipchirt agus beidh sé sásta na hadmhálacha sin a fágadh ar lár a chur ina gceart amach anseo ach é a chur ar an eolas.

Arna eisiúint ag CCEA le caoinchead ón Suirbhéireacht Ordanáis



Four colours should appear above; if not then please return to the invigilator.
Four colours should appear above; if not then please return to the invigilator.

ROADS AND PATHS Not necessarily rights of way

RAILWAYS

WATER FEATURES

HEIGHTS 1 metre = 3.2808 feet

PUBLIC RIGHTS OF WAY

BOUNDARIES

TOURIST INFORMATION

LAND FEATURES

ABBREVIATIONS

